

## Proves d'accés a la universitat

Convocatòria 2014

### Geografia

Sèrie 5

Escolliu UNA de les dues opcions (A o B).

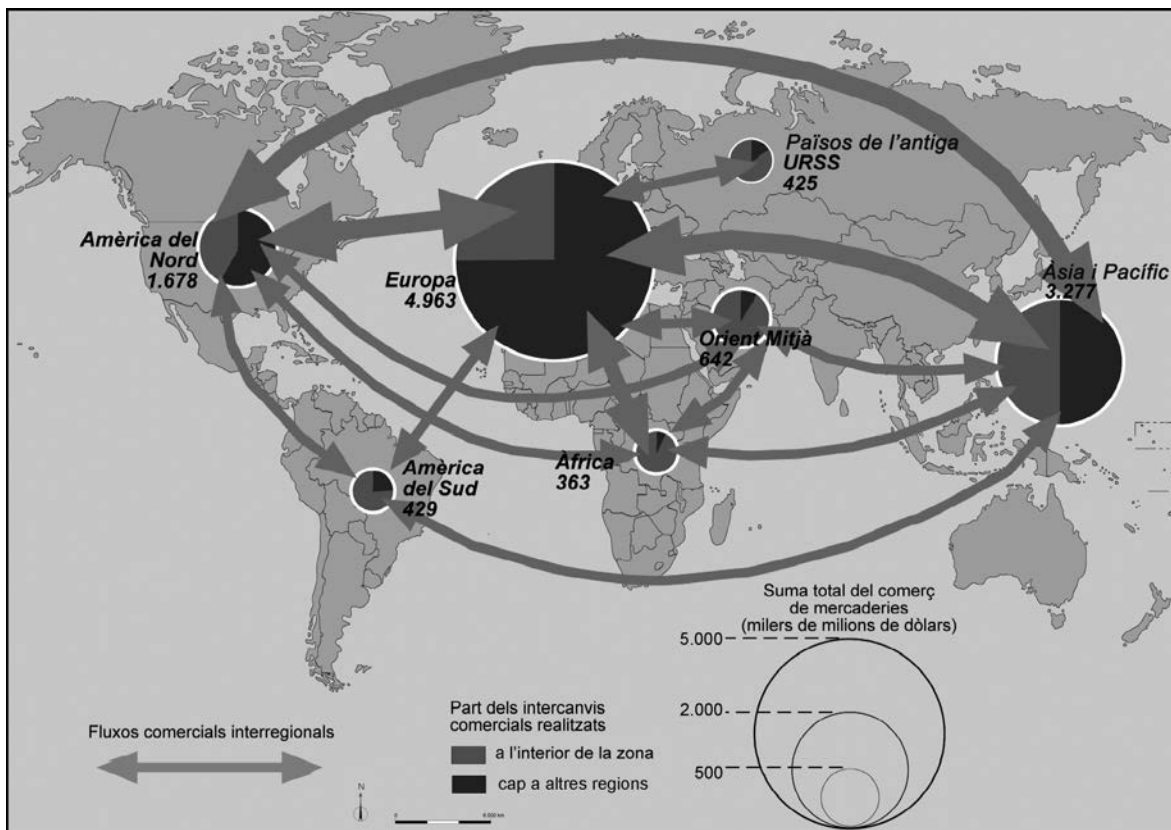
#### OPCIÓ A

##### Exercici 1

[5 punts en total]

Observeu el mapa següent i responeu a les qüestions plantejades.

*Fluxos comercials al món (2007)*



NOTA: Mapa elaborat a partir de dades de l'Organització Mundial del Comerç del 2007.

FONT: *El atlas geopolítico 2010* [Le Monde Diplomatique]. València: Akal i Fundació Mondiplo, 2009.

1. Descriviu la informació representada en el mapa.  
[1 punt]

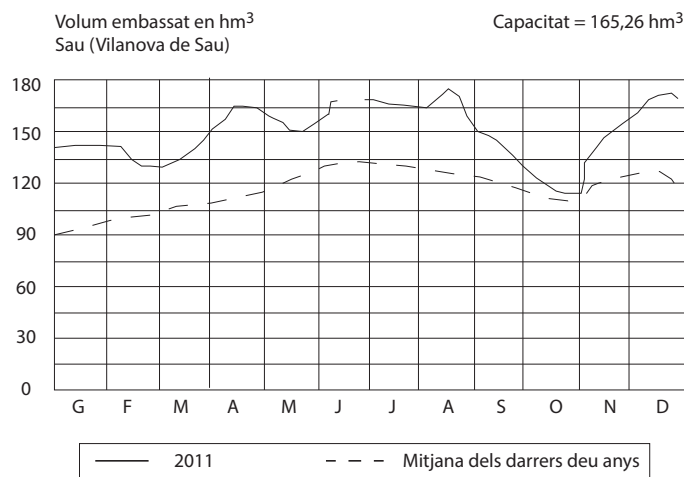
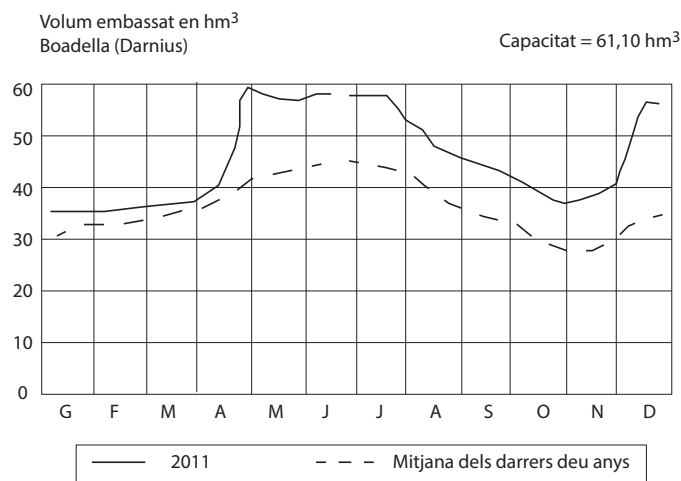
2. Definiu els termes *flux comercial* i *globalització financera*.  
[1 punt]
3. Responen a les qüestions següents relacionades amb els agents reguladors del comerç internacional:
- Expliqueu les posicions dels partidaris i dels detractors dels aranzels duaners com a instrument per a regular el comerç mundial.
  - Quin organisme internacional vigila el compliment dels acords entre països en matèria de comerç? Quan va ser creat? Quines funcions té assignades?
- [1,5 punts]
4. Responen a les qüestions següents relacionades amb els principals organismes financers internacionals (Banc Mundial i Fons Monetari Internacional) i amb el dòlar com a moneda de referència internacional:
- Quines funcions tenen el Banc Mundial i el Fons Monetari Internacional?
  - Per què el dòlar és la moneda de pagament en l'intercanvi de mercaderies entre països? Quan i on es va prendre aquesta decisió?
- [1,5 punts]

## Exercici 2

[5 punts en total]

Observeu els gràfics següents i responen a les qüestions plantejades.

*Volum d'aigua embassada als pantans de Boadella i Sau (2011)*



NOTA: No hi ha dades disponibles en alguns dies de juny de 2011.  
FONT: Adaptació feta a partir del gràfic de l'Agència Catalana de l'Aigua [en línia].

1. Descriviu la informació representada en els gràfics.  
[1 punt]
2. Definiu els termes *aqüífer* i *estiatge*.  
[1 punt]
3. Respondeu a les qüestions següents relacionades amb la informació representada en els gràfics:
  - a) A quins mesos corresponen els nivells màxim i mínim de capacitat dels embassaments?
  - b) Expliqueu les causes climàtiques i socioambientals d'aquesta fluctuació.
  - c) Esmenteu les principals conques hidrogràfiques internes de Catalunya i expliqueu quin tipus de règim hidrològic tenen.
 [1,5 punts]
4. Exposeu les característiques principals del problema de l'abastament d'aigua a Catalunya, d'acord amb l'esquema següent:
  - a) Els recursos hídrics disponibles. Són suficients o insuficients?
  - b) Els sistemes d'aprofitament de l'aigua.
  - c) Els usos de l'aigua.
 [1,5 punts]

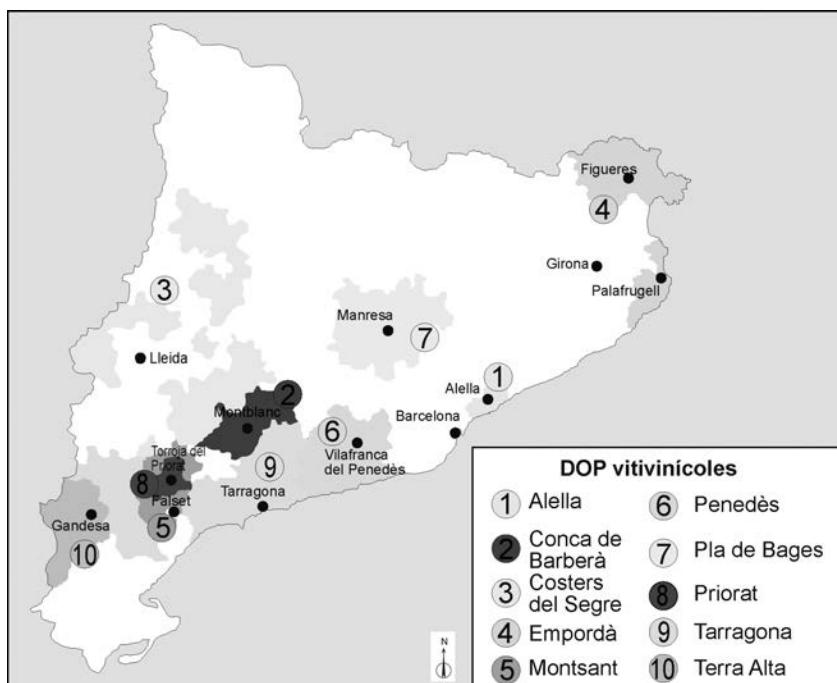
## OPCIÓ B

### Exercici 1

[5 punts en total]

Observeu el mapa següent i respondeu a les qüestions plantejades.

*Denominacions d'origen protegides (DOP) del vi a Catalunya*



NOTA: No hi ha representada la DOP Catalunya, l'àrea de la qual coincideix amb la de les deu DOP vitivinícoles.

FONT: Institut Català de la Vinya i el Vi [en línia].

1. Descriviu la informació representada en el mapa.  
[1 punt]
2. Definiu els termes *denominació d'origen (DO)* i *minifundi*.  
[1 punt]

3. Responen a les qüestions següents relacionades amb el conreu de la vinya a Catalunya:
  - a) Quines són les característiques del paisatge agrari de les zones on es conrea la vinya?
  - b) Quins productes s'obtenen del conreu de la vinya i com es comercialitzen?
  - c) Què és l'enoturisme?
 [1,5 punts]
  
4. Exposeu les característiques del paisatge agrari mediterrani a Catalunya d'acord amb l'esquema següent:
  - a) Els factors condicionants naturals.
  - b) El tipus d'agricultura que s'hi practica.
  - c) Les dimensions de les explotacions agràries.
 [1,5 punts]

## Exercici 2

[5 punts en total]

Observeu la taula següent i responen a les qüestions plantejades.

*Evolució de la població mundial*

<i>Any</i>	<i>Població (en milions de persones)</i>	<i>Taxa de creixement anual (%)</i>	<i>Anys necessaris per a la duplicació</i>
-2.000.000	—	—	—
-8.000	8	0,00076	91.204
0	300	0,0453	1.530
1750	800	0,056	1.238
1800	1.000	0,446	155
1850	1.300	0,525	132
1900	1.700	0,535	129
1950	2.500	0,771	90
1975	4.100	1,979	35
2000	6.000	1,523	46

FONT: Juan ROMERO (ed.). *Geografia humana*. Barcelona: Ariel, 2004, p. 57.

1. Descriviu la informació representada en la taula.  
[1 punt]
  
2. Definiu els termes *creixement natural* i *taxa de creixement real de la població*.  
[1 punt]
  
3. Expliqueu les causes del gran creixement de la població mundial entre 1950-1975 i de la desacceleració posterior en el darrer període.  
[1,5 punts]
  
4. Exposeu les diferents fases o règims de l'evolució demogràfica per les quals ha passat la població mundial al llarg de la història, d'acord amb l'esquema següent:
  - a) Identifiqueu les etapes cronològiques de predomini del règim demogràfic antic i de predomini del règim demogràfic modern.
  - b) Expliqueu les característiques demogràfiques definidores de cadascuna d'aquestes dues etapes.
 [1,5 punts]



Institut  
d'Estudis  
Catalans